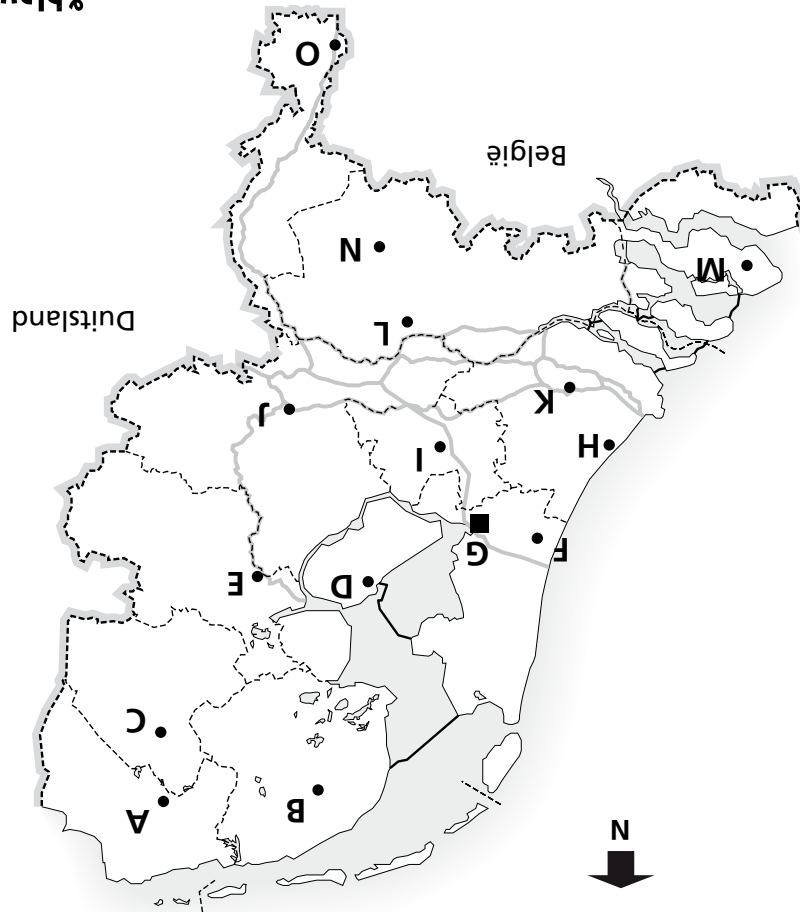
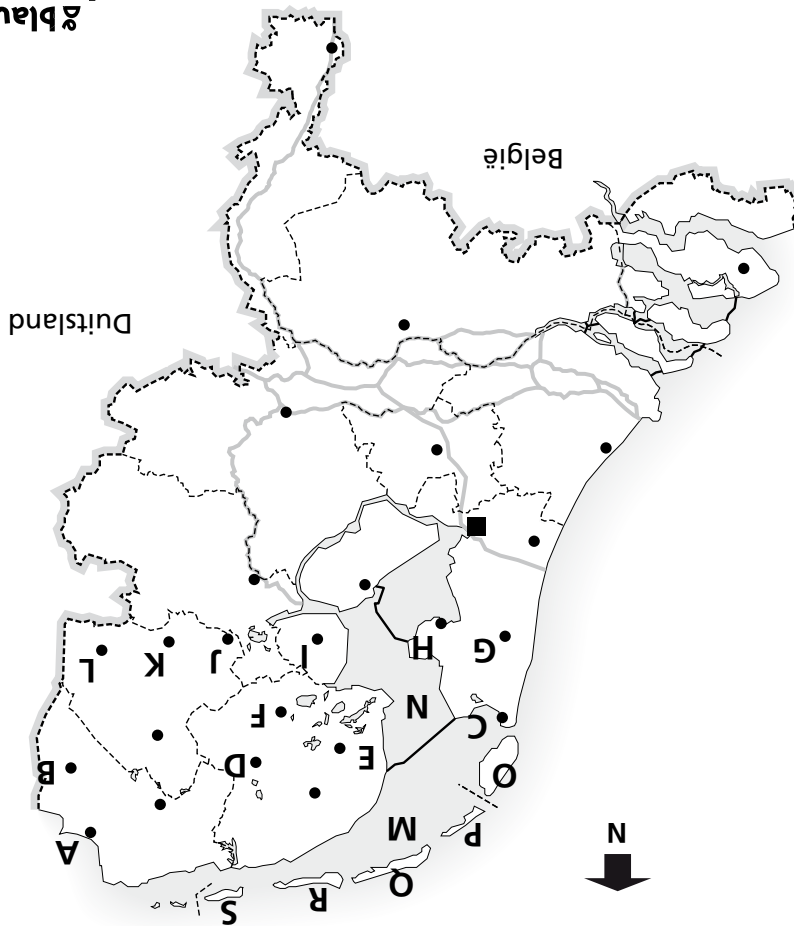


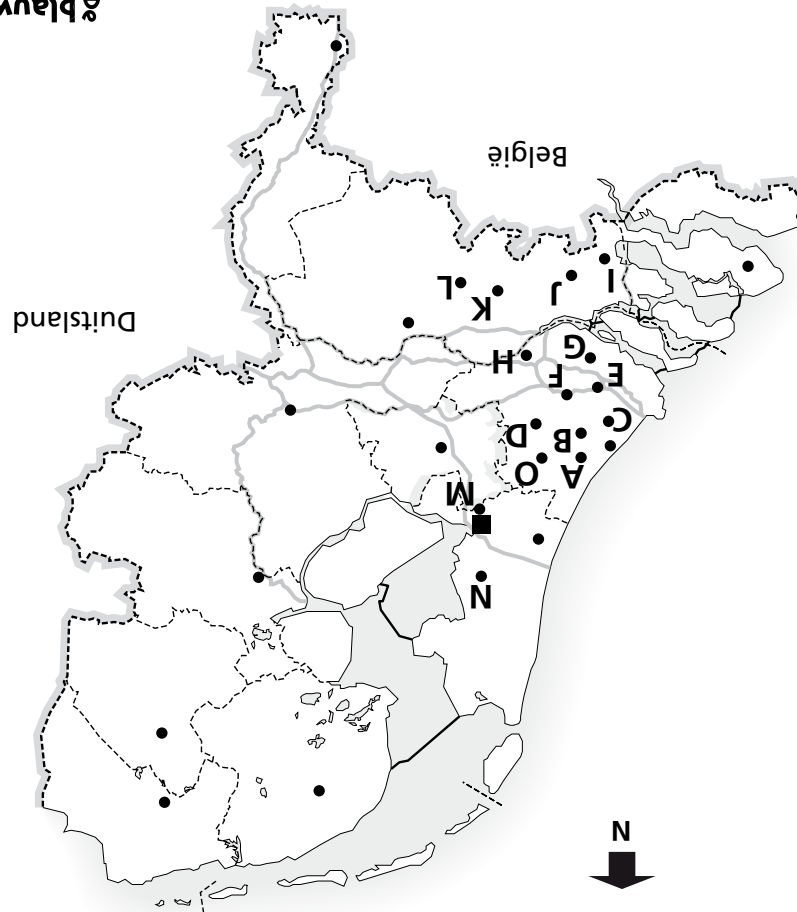
- 1** Noem de letter (behalve de X) en zeg welke provincie het is.  
*A = Friesland, B = Noord-Holland, C = Utrecht, D = Zuid-Holland, E = Groningen, F = Drenthe, G = Flevoland, H = Gelderland, I = Overijssel, J = Noord-Brabant, K = Limburg, L = Zeeland*
- 2** Welke provincie ligt in het midden van het land? Utrecht of Drenthe? *Utrecht*
- 3** Welke provincie grenst aan Limburg? Zeeland of Noord-Babant? *Noord-Brabant*
- 4** Kijk naar de X op het kaartje. Hoe heten die eilanden? *de Waddeneilanden*
- 5** Welke drie provincies liggen aan de Noordzee? *Zeeland, Zuid-Holland, Noord-Holland*
- 6** Welke rivier stroomt door Limburg? *de Maas*
- 7** Welke twee provincies liggen in het noorden? *Groningen en Friesland*
- 8** Je wilt van Overijssel naar Zuid-Holland. Door welke twee provincies kom je dan?  
*door Gelderland en Utrecht*



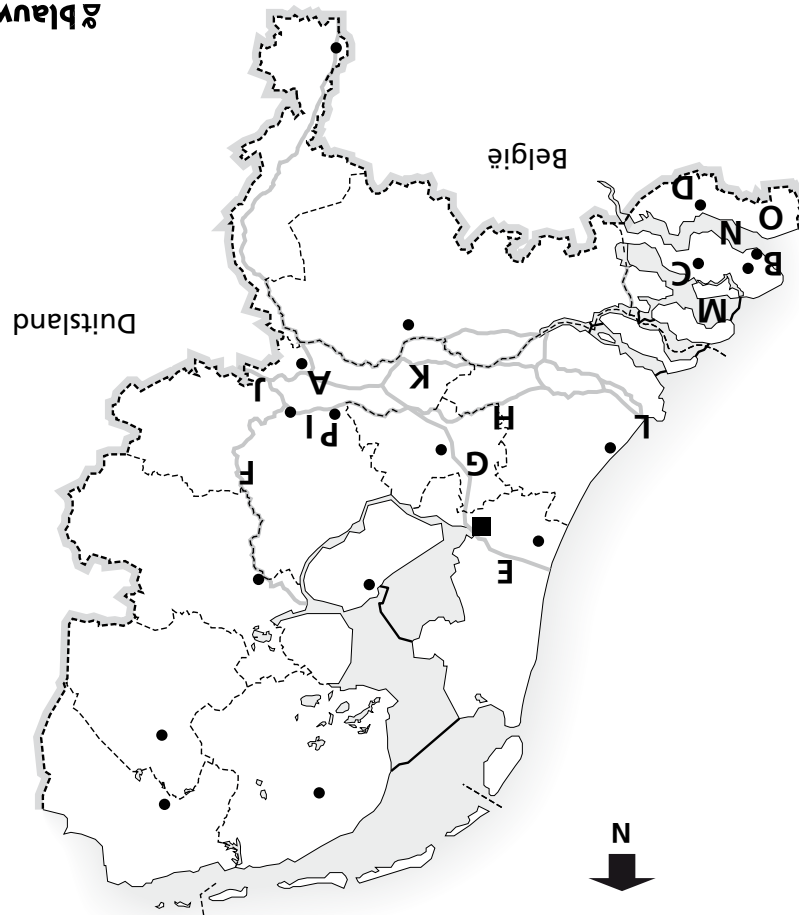
- 1** Noem de letter en zeg welke plaats het is.  
*A = Groningen, B = Leeuwarden, C = Assen, D = Lelystad, E = Zwolle, F = Haarlem, G = Amsterdam, H = Den Haag, I = Utrecht, J = Arnhem, K = Rotterdam, L = Den Bosch, M = Middelburg, N = Eindhoven, O = Maastricht*
- 2** In welke provincie ligt Haarlem? *Noord-Holland*
- 3** Welke stad ligt het dichtst bij Utrecht? Lelystad of Maastricht? *Lelystad*
- 4** Welke stad ligt ten noorden van Assen? Groningen of Leeuwarden? *Groningen*
- 5** Welke stad ligt ten zuiden van Den Bosch? Eindhoven of Utrecht? *Eindhoven*
- 6** Je wilt reizen van Den Haag naar Arnhem. Welke plaats passeer je dan onderweg? *Utrecht*
- 7** Welke stad ligt in de Randstad? Amsterdam of Arnhem? *Amsterdam*
- 8** Welke plaats ligt het verst van Zwolle? Lelystad of Leeuwarden? *Leeuwarden*



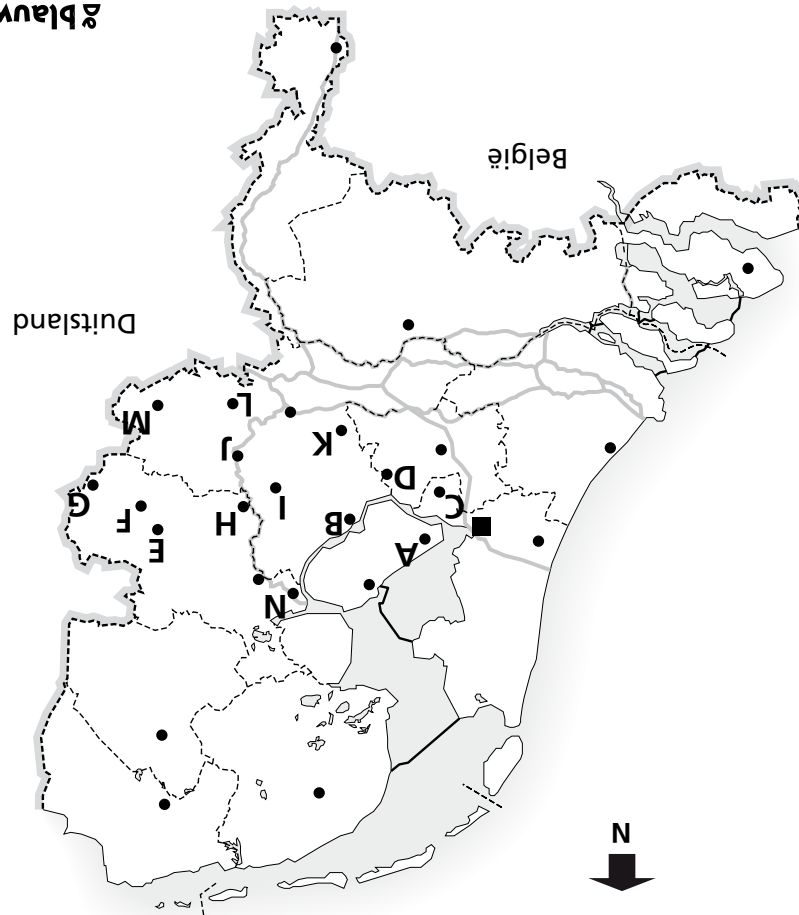
- 1** Noem de letter en zeg welke plaats (of welk water) het is.  
*A = Delfzijl, B = Winschoten, C = Den Helder, D = Drachten, E = Sneek, F = Heerenveen, G = Alkmaar, H = Hoorn, I = Emmeloord, J = Meppel, K = Hoogeveen, L = Emmen, M = de Waddenzee, N = het IJsselmeer, O = Texel, P = Vlieland, Q = Terschelling, R = Ameland, S = Schiermonnikoog*
- 2** Welke dijk ligt tussen de Waddenzee en het IJsselmeer? *de Afsluitdijk*
- 3** Welke twee plaatsen liggen het dichtst bij Duitsland? *Winschoten en Emmen*
- 4** Welke plaats ligt het verst van het IJsselmeer? Hoogeveen of Heerenveen? *Hoogeveen*
- 5** Welk eiland ligt ten noorden van Den Helder? *Texel*
- 6** Welke plaats ligt het dichtst bij Emmeloord? Delfzijl of Sneek? *Sneek*
- 7** Welke plaats ligt ten westen van Hoorn? *Alkmaar*
- 8** Welk plaats passeer je als je reist van Sneek naar Meppel? *Heerenveen*



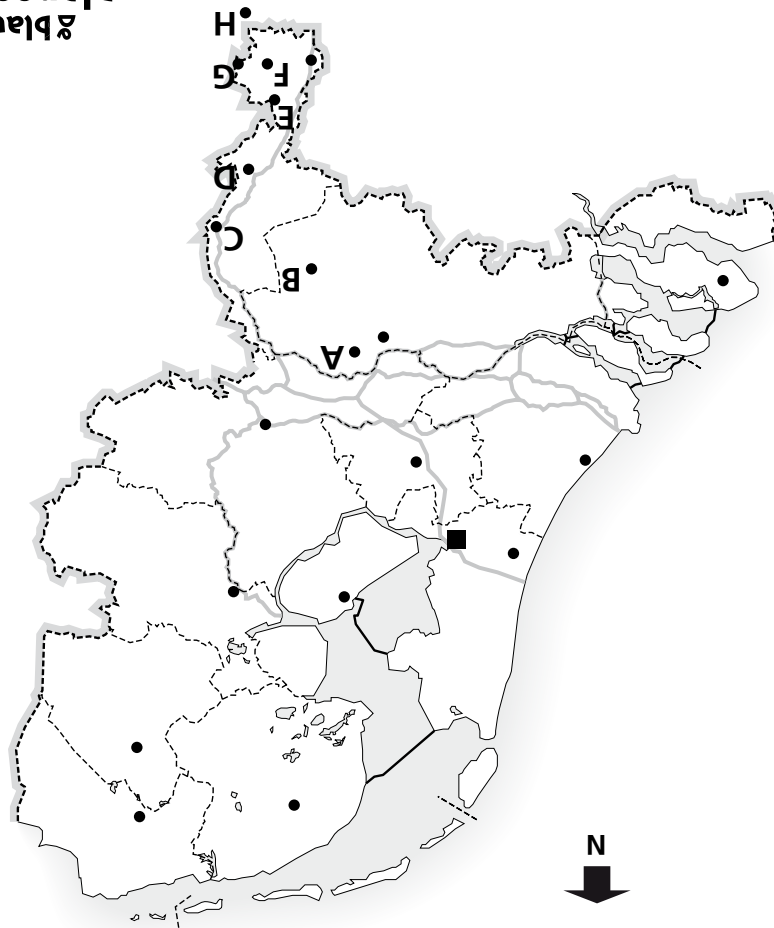
- 1** Noem de letter en zeg welke plaats het is.  
*A = Leiden, B = Zoetermeer, C = Delft, D = Gouda, E = Vlaardingen, F = Schiedam, G = Spijkenisse, H = Dordrecht, I = Bergen op Zoom, J = Roosendaal, K = Breda, L = Tilburg, M = Amstelveen, N = Purmerend, O = Alphen aan den Rijn*
- 2** Welke plaats ligt ten noorden van Vlaardingen? *Delft*
- 3** Welke plaats ligt ten oosten van Breda? *Tilburg*
- 4** Welke plaats ligt in het midden tussen Leiden, Delft en Gouda? *Zoetermeer*
- 5** Dordrecht ligt vlak bij een groot natuurgebied. Hoe heet dat gebied? *de Biesbos*
- 6** Welke twee plaatsen liggen dicht bij de Belgische grens?  
*Roosendaal (J) en Bergen op Zoom (I)*
- 7** Hoe heet het grote industriegebied bij Vlaardingen en Rotterdam? *de Rijnmond*
- 8** Welke plaats ligt dicht bij Amsterdam: Tilburg of Gouda? *Gouda*



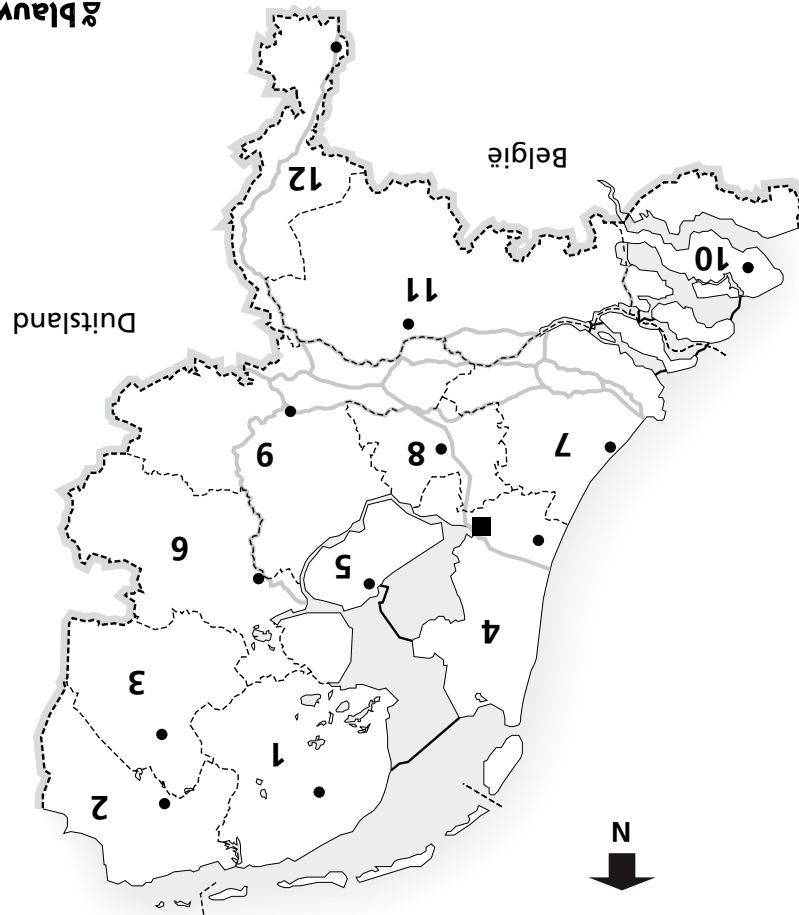
- 1** Noem de letter en zeg welke plaats of welk water het is.  
*A = Nijmegen, B = Vlissingen, C = Goes, D = Terneuzen, E = het Noordzeekanaal,  
F = de IJssel, G = het Amsterdam-Rijnkanaal, H = de Lek, I = de Neder-Rijn, J = de Rijn,  
K = de Waal, L = de Nieuwe Waterweg, M = de Oosterschelde, N = de Westerschelde,  
O = Zeeuws-Vlaanderen, P = Wageningen*
- 2** Welke rivier stroomt vooral naar het noorden? *de IJssel*
- 3** Aan welke rivier ligt Nijmegen? *de Waal*
- 4** Het water van de Neder-Rijn verandert in het westen van naam. In welke naam?  
*de Lek*
- 5** Door welk kanaal kom je als je vaart van het Noordzeekanaal naar de Neder-Rijn?  
*het Amsterdam-Rijnkanaal*
- 6** Welk water ligt ten noorden van Goes? *de Oosterschelde*
- 7** Aan welk water liggen Vlissingen en Terneuzen? *de Westerschelde*
- 8** Door welk kanaal kun je varen van de Rijnmond naar de Noordzee?  
*de Nieuwe Waterweg*



- 1** Noem de letter en zeg welke plaats het is.  
*A = Almere, B = Harderwijk, C = Hilversum, D = Amersfoort, E = Almelo, F = Hengelo, G = Enschede, H = Deventer, I = Apeldoorn, J = Zutphen, K = Ede, L = Doetinchem, M = Winterswijk, N = Kampen*
- 2** Welke plaats ligt ten noorden van Hilversum? *Almere*
- 3** Door welk natuurgebied kom je als je reist van Amersfoort naar Apeldoorn?  
*de Veluwe*
- 4** Welke plaats passeer je als je reist van Almelo naar Enschede? *Hengelo*
- 5** Welke plaats ligt ten oosten van Doetinchem? *Winterswijk*
- 6** Hoe heet de streek rondom Hengelo en Enschede? *Twente*
- 7** Welke stad ligt aan de rivier de IJssel? Deventer of Ede? *Deventer*
- 8** Vanuit welke stad zie je aan de overkant van het water Flevoland liggen?  
*Harderwijk*



- 1** Noem de letter en zeg welke plaats het is.  
*A = Oss, B = Helmond, C = Venlo, D = Roermond, E = Sittard, F = Heerlen, G = Kerkrade, H = Aken*
- 2** Welk land ligt ten westen van Limburg? *België*
- 3** Welk land ligt ten oosten van Venlo? *Duitsland*
- 4** Ligt Maastricht dichterbij Duitsland of bij België? *België*
- 5** Welke plaats passeer je als je reist van Sittard naar Venlo? *Roermond*
- 6** Welke plaats ligt het noordelijkst? Oss of Helmond? *Oss*
- 7** Welke plaats ligt in Zuid-Limburg? Kerkrade of Venlo? *Kerkrade*
- 8** Welke plaats ligt vlak bij Aken? Heerlen of Helmond? *Heerlen*



- 1** Noem het cijfer en zeg welke provincie het is. Noem ook gelijk de hoofdstad ervan.  
 1 = Friesland (Leeuwarden), 2 = Groningen (Groningen), 3 = Drenthe (Assen),  
 4 = Noord-Holland (Haarlem), 5 = Flevoland (Lelystad), 6 = Overijssel (Zwolle),  
 7 = Zuid-Holland (Den Haag), 8 = Utrecht (Utrecht), 9 = Gelderland (Arnhem),  
 10 = Zeeland (Middelburg), 11 = Noord-Brabant (Den Bosch), 12 = Limburg (Maastricht)
- 2** Welke drie plaatsen liggen aan de rivier de IJssel? *Zwolle, Deventer, Zutphen (deels Arnhem)*
- 3** Noem drie plaatsen die in Twente liggen. *Almelo, Hengelo, Enschede*
- 4** Noem vier plaatsen die in Friesland liggen. *Leeuwarden, Sneek, Drachten, Heerenveen*
- 5** Welk kanaal ligt er tussen Utrecht en Amsterdam? *het Amsterdam-Rijnkanaal*
- 6** Welke wateren liggen ten noorden en ten zuiden van Goes? *de Oosterschelde (ten noorden) en de Westerschelde (ten zuiden)*
- 7** Hoe heet het grootste Waddeneiland? *Texel*
- 8** In welke provincie ligt Emmeloord? *in Flevoland*